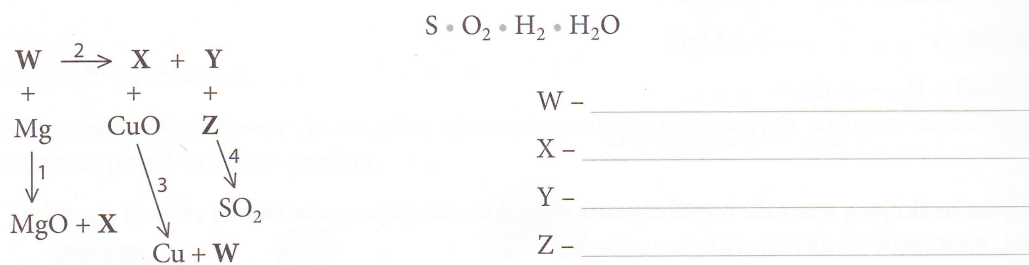


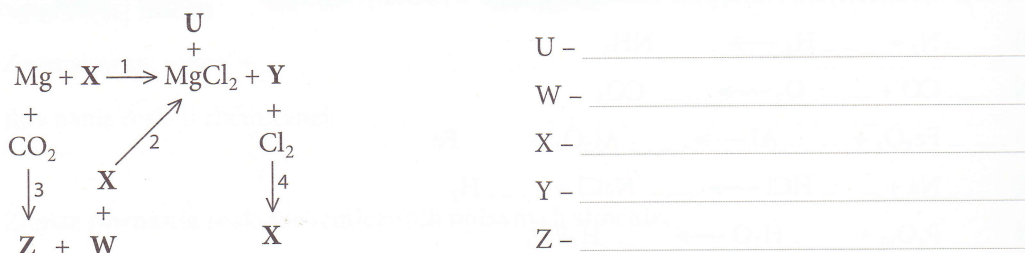
**37 a)** Napisz wzory lub symbole chemiczne substancji oznaczonych na schemacie literami (W-Z). Wybierz je spośród podanych. Napisz i uzgodnij równania reakcji chemicznych oznaczonych cyframi (1-4).



- W - \_\_\_\_\_  
 X - \_\_\_\_\_  
 Y - \_\_\_\_\_  
 Z - \_\_\_\_\_

1. \_\_\_\_\_  
 2. \_\_\_\_\_  
 3. \_\_\_\_\_  
 4. \_\_\_\_\_

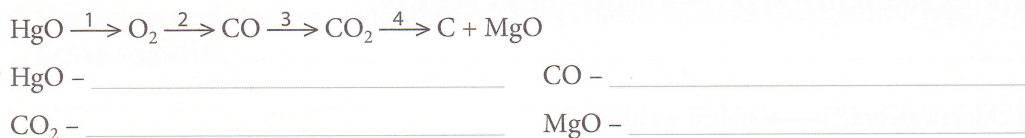
**b)** Napisz wzory lub symbole chemiczne substancji oznaczonych na schemacie literami (U-Z). Napisz i uzgodnij równania reakcji chemicznych oznaczonych cyframi (1-4).



- U - \_\_\_\_\_  
 W - \_\_\_\_\_  
 X - \_\_\_\_\_  
 Y - \_\_\_\_\_  
 Z - \_\_\_\_\_

1. \_\_\_\_\_  
 2. \_\_\_\_\_  
 3. \_\_\_\_\_  
 4. \_\_\_\_\_

**c)** Napisz i uzgodnij równania reakcji chemicznych oznaczonych na schemacie cyframi (1-4). Napisz nazwy systematyczne wybranych związków chemicznych.



1. \_\_\_\_\_  
 2. \_\_\_\_\_  
 3. \_\_\_\_\_  
 4. \_\_\_\_\_

